



Ce document a été mis en ligne par l'organisme [FormaV®](#)

Toute reproduction, représentation ou diffusion, même partielle, sans autorisation préalable, est strictement interdite.

Pour en savoir plus sur nos formations disponibles, veuillez visiter :

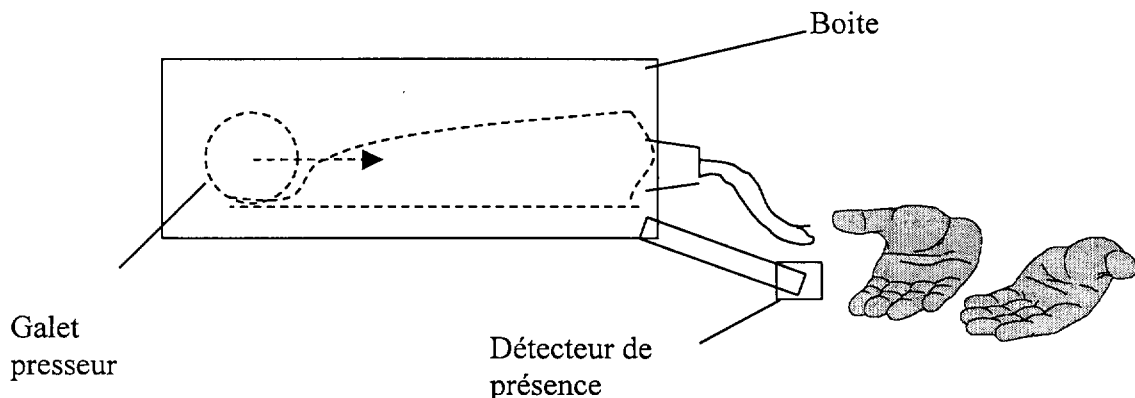
[www.formav.co/explorer](http://www.formav.co/explorer)

## ETUDE D'UN DISTRIBUTEUR DE POMMADE : LE PRESSE-TUBE

### LES TROIS PARTIES À TRAITER SONT INDEPENDANTES.

#### Présentation

Le presse tube automatique est un appareil microtechnique qui permet de distribuer le fluide d'un tube sans que l'utilisateur ne touche ce dernier (figure n°1). Le but de ce système est d'éviter à l'utilisateur de manipuler et de salir le tube avec ses doigts. Il est très utile dans divers domaines, comme celui de la kinésithérapie. En effet, lors d'un massage, le kinésithérapeute a besoin de plusieurs doses de pommade mais, comme il a les mains grasses, le tube devient de plus en plus sale, d'où l'utilité d'automatiser la distribution des doses de pommade sans contact avec les mains.



P  
figure n°1

#### Principe de fonctionnement du presse-tube

Le tube est immobile en appui plan et en butée contre le boîtier externe du dispositif. Le mécanisme est assuré par un système vis-écrou et un galet presseur, le tout motorisé par un moto-réducteur. Le galet presseur est en liaison pivot avec un petit boîtier qui est lui-même en liaison glissière avec le boîtier externe. Le schéma cinématique est donné en figure n°2.

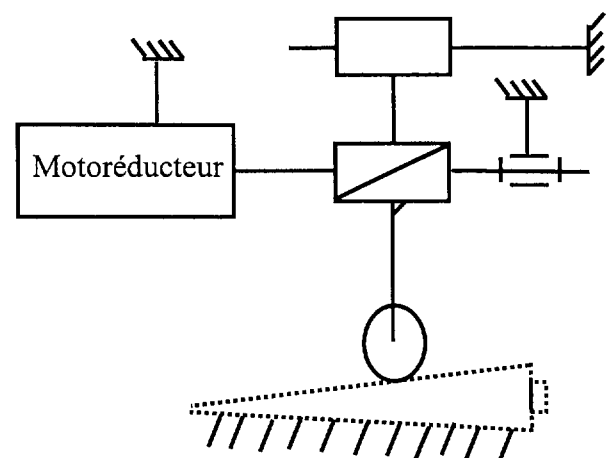


figure n°2

La cage (figure n°3) sert à maintenir le galet tout en fixant sa trajectoire pour que le tube soit totalement écrasé. La détection de la cage, en début et fin de course, est assurée par deux boutons poussoirs. Le premier bouton poussoir sert à détecter la fin de course de la cage (tube vide), tandis que le deuxième sert à détecter la fin de course du retour de celle-ci afin de détecter la nouvelle position initiale, permettant à un nouveau cycle de recommencer.

Quand l'utilisateur positionne ses mains au-dessous de l'appareil, ces dernières sont détectées par le capteur à infrarouge constitué par la DEL et le transistor. Le générateur de signaux carrés [NE 555] et le comparateur [TLC 393] actionnent le moto-réducteur qui entraîne à son tour le galet presseur et un volume  $V$  de pommade est extrait du tube durant un intervalle de temps fixé. Une fois que l'utilisateur a évacué ses mains remplies, le galet se met à l'arrêt et un nouveau cycle peut recommencer.

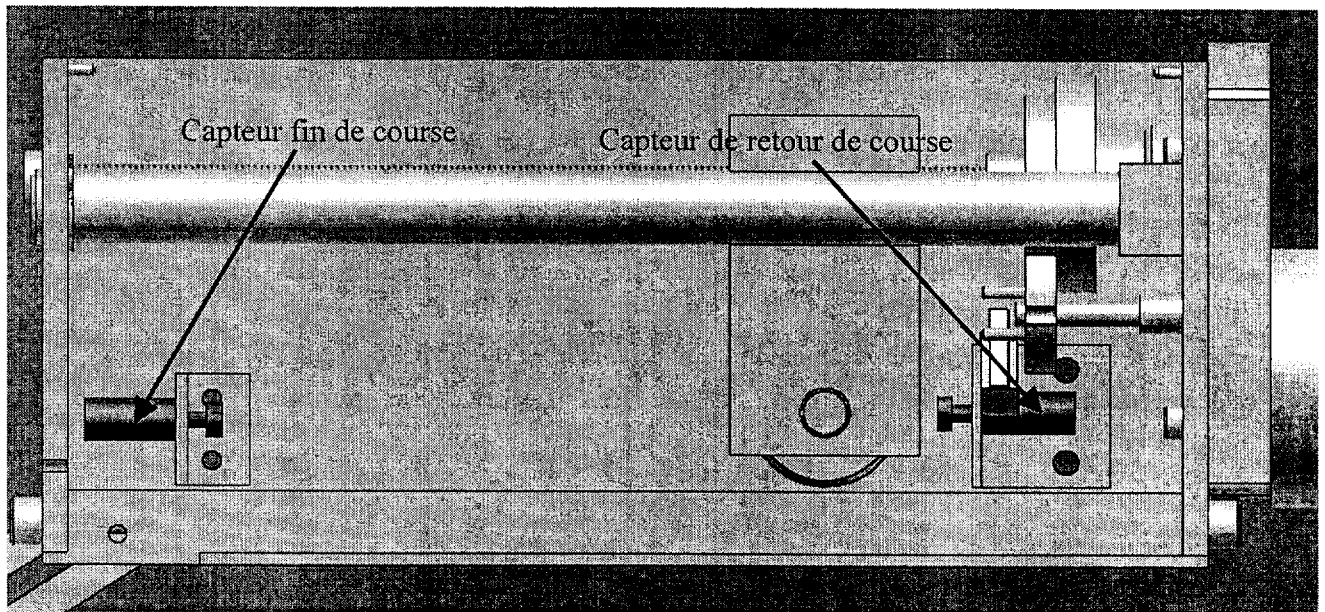
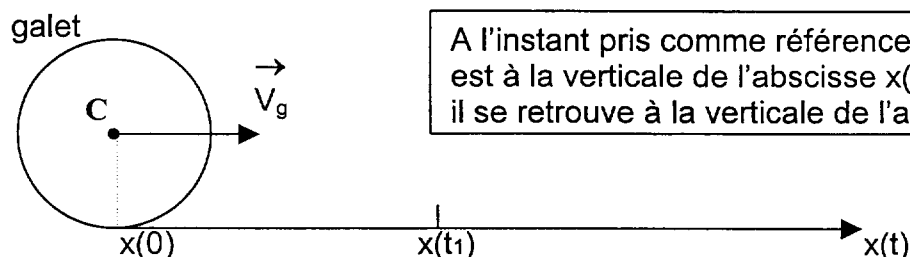


figure n°3

## A - ETUDE CINEMATIQUE ET CHOIX DU MOTEUR.

### A-1. ETUDE CINEMATIQUE.



On appellera  $\Delta t_1$  l'intervalle de temps défini par :  $\Delta t_1 = t_1 - 0$

On suppose que le diamètre  $D_t$  du tube de pommade est constant et que le galet presseur de rayon  $R_g$  roule sans glissement au contact de la surface du tube. Le centre  $C$  du galet est animé d'un mouvement rectiligne uniforme de vitesse  $V_g$ . Il presse un volume de pommade  $V$  durant un intervalle de temps  $\Delta t$  en parcourant la distance  $x(t)$  (schéma ci-dessus). On suppose qu'initialement :  $x(0) = 0$ . On donne :

$$D_t = 30 \text{ mm} ; \quad V = 2,0 \text{ cm}^3 ; \quad R_g = 10 \text{ mm} ; \quad \Delta t_1 = 3,0 \text{ s}.$$

A-1-1. Calculer la section  $S$  du tube de pommade.

A-1-2. Donner l'équation horaire  $x(t)$  du centre  $C$  du galet. En déduire la vitesse linéaire  $V_g$  d'avancement du galet en fonction de  $t_1$  et de la longueur  $x(t_1)$ .

A-1-3. Exprimer le volume  $V$  extrait du tube de pommade en fonction de  $S$  et  $x(t_1)$ .

A-1-4. En déduire  $V_g$  en fonction de  $V$ ,  $t_1$  et  $S$ . Calculer  $V_g$ .

A-1-5. Calculer la vitesse de rotation  $\Omega_g$  du galet en radian par seconde puis en tour par minute.

A-1-6. Le rapport de réduction  $r$  entre le moteur et le galet est tel que :  $r = 1000$ . Calculer la vitesse de rotation  $\Omega_m$  du moteur en radian par seconde.

## **A-2. CHOIX DU MOTEUR A COURANT CONTINU.**

Le moteur entraîne une charge qui présente un couple résistant de moment  $Tr$ .  $Tr$  est de l'ordre de  $5,0 \text{ mN.m}$  pour une vitesse de rotation  $n$  de  $900$  tours par minute.

A-2-1. Dans le tableau ci-dessous, choisir le moteur adapté au bon fonctionnement du moto-réducteur. Justifier votre choix.

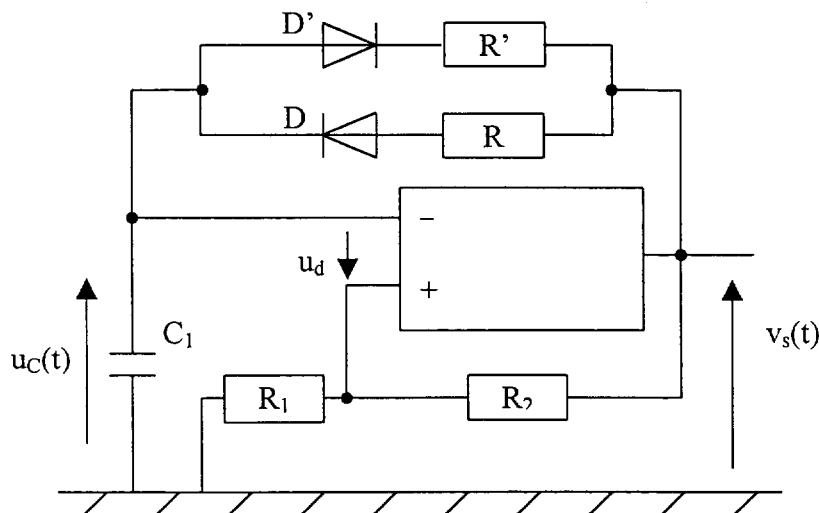
	M1	M2	M3	M4
Couple utile Nominal $T_{un} \text{ (mN.m)}$	4,5	7,5	5,5	20
Vitesse de rotation nominale $n_{un} \text{ (tr.min}^{-1}\text{)}$	900	1000	950	1000

A-2-2. Ce moteur est alimenté sous une tension  $U = 12V$  et est traversé en charge par un courant nominal d'intensité  $I_n$ .

A-2-2-1. Calculer la puissance mécanique  $P_m$  disponible sur l'arbre du moteur.

A-2-2-2. Le rendement  $\eta_m$  du moteur est de  $70\%$ . Calculer l'intensité  $I_n$  du courant absorbé par le moteur.

## **B- ETUDE DU GENERATEUR D'IMPULSIONS QUI ALIMENTE LA D.E.L.**



Le montage ci-dessus fonctionne en comparateur à deux seuils (le composant intégré est en régime non linéaire). Suivant la tension  $u_c(t)$  de charge ou de décharge du condensateur, la tension de sortie  $v_s(t)$  de l'amplificateur ne peut prendre que deux valeurs : 0 V ou 12 V ; elle bascule à chaque fois que  $u_d = 0V$ .

0 V et 12 V sont les tensions dissymétriques d'alimentation de l'amplificateur de différence intégré (ou amplificateur opérationnel).

On donne :  $R_1 = R_2 = 10 \text{ k}\Omega$  ;  $R = 1,5 \text{ M}\Omega$  ;  $R' = 150 \text{ k}\Omega$  ;  $C_1 = 0,1 \text{ }\mu\text{F}$ .

B-1. Nous supposons

- que l'origine des temps est fixée arbitrairement au début de la phase telle que :  
 $v_s(0) = V_{cc}$  avec :  $V_{cc} = 12 \text{ V}$  ;  $u_c(0) = 0 \text{ V}$  ;
- que le régime permanent est établi.

Le circuit ( $R, C_1$ ) est soumis à la tension  $V_{cc}$  et le condensateur  $C_1$  se charge à travers la résistance  $R$ .

- Calculer la constante de temps  $\tau$  pendant la charge.
- Exprimer  $v_+$  en fonction de  $V_{cc}$ ,  $R_1$  et  $R_2$ . Calculer  $U_1 = v_+$ .
- A l'instant  $t_1$ ,  $u_c(t)$  atteint la valeur  $U_1$ . Calculer  $u_d(t_1)$ . Quelle valeur prend alors la tension de sortie  $v_s(t_1)$  ?

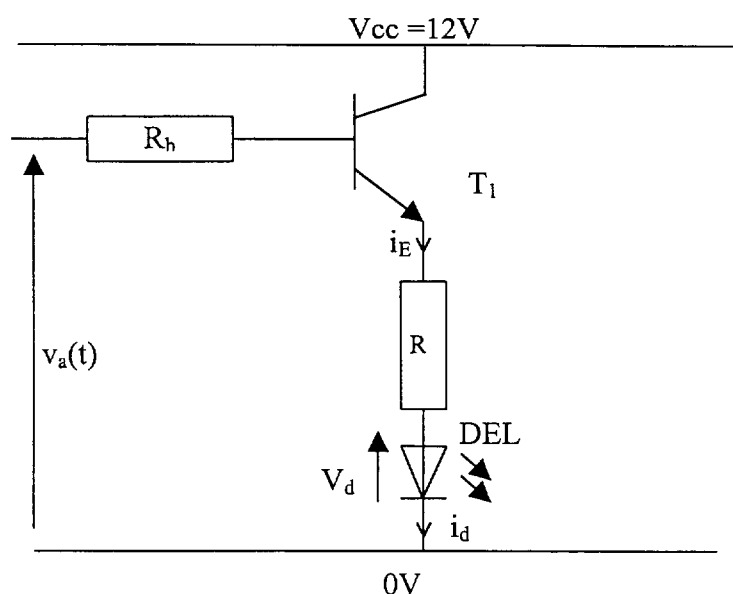
B-2. Le condensateur se décharge alors à travers la résistance  $R'$ .

- Calculer la constante de temps  $\tau'$  durant cette phase.
- Calculer la tension  $U_2 = v_+$ . Quand  $u_c(t)$  atteint la valeur  $U_2$  à l'instant  $t_2$ , calculer  $u_d$ . Quelle valeur prend alors la tension de sortie  $v_s(t = t_2)$  ?
- On prendra pour  $t_1$  et  $t_2$  les valeurs respectives de 10 ms et 990 ms. Calculer la période  $T$  des tensions  $u_c(t)$  et  $v_s(t)$ .

B-3. Tracer sur le document réponse page 9/9 (figure b) les allures des tensions  $u_c(t)$  et  $v_s(t)$ , en indiquant les valeurs de seuil de basculement de la sortie et les intervalles de temps correspondants.

## **C - GENERATION D'IMPULSIONS DE COURANT DANS LA D.E.L.**

### **C-1 FONCTIONNEMENT DE LA DEL ET DU TRANSISTOR $T_1$ .**



Le générateur de signaux délivre une tension carrée  $v_a(t)$  qui alimente la DEL par le biais des résistances  $R_b$ ,  $R$  et du transistor (NPN)  $T_1$  (schéma ci-dessus). La tension  $v_a(t)$  est donnée dans le document réponse (figure a).

Le régime de fonctionnement du transistor  $T_1$  est le suivant :

- si  $v_a(t) = 12V$ , alors  $T_1$  est saturé et  $V_{CE} = 0V$  ;
- si  $v_a(t) = 0V$ , alors  $T_1$  est bloqué et  $I_E = 0A$  .

On note  $V_d$  la tension aux bornes de la DEL et on donne :

$$R_b = 1,5 \text{ k}\Omega \quad , \quad R = 33 \Omega \quad , \quad V_d = 1,5 \text{ V} \quad , \quad V_{CC} = 12 \text{ V}.$$

C-1-1. Quel est l'état de la DEL si le transistor  $T_1$  est bloqué ? Calculer l'intensité du courant  $I_d$  dans la DEL.

C-1-2. Quel est l'état de la DEL si le transistor  $T_1$  est saturé ? Calculer l'intensité du courant  $I_d$  dans la DEL.

C-1-3. En déduire le chronogramme de  $i_d(t)$  dans la DEL (document réponse page 9/9 figure a).

### **C-2 TRAITEMENT DE LA PRESENCE DES MAINS.(figure n°4)**

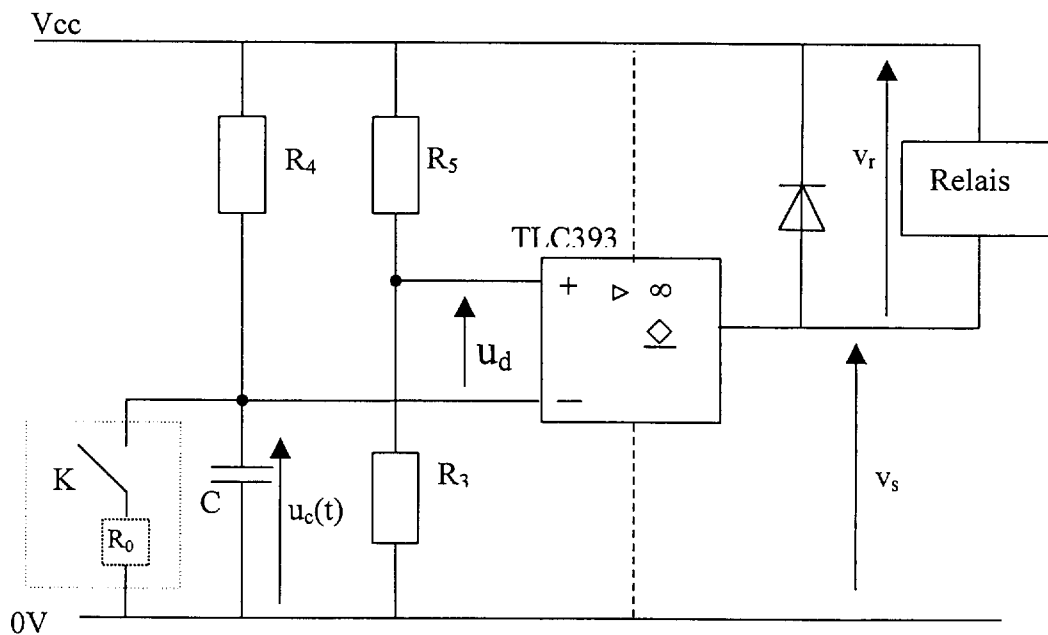
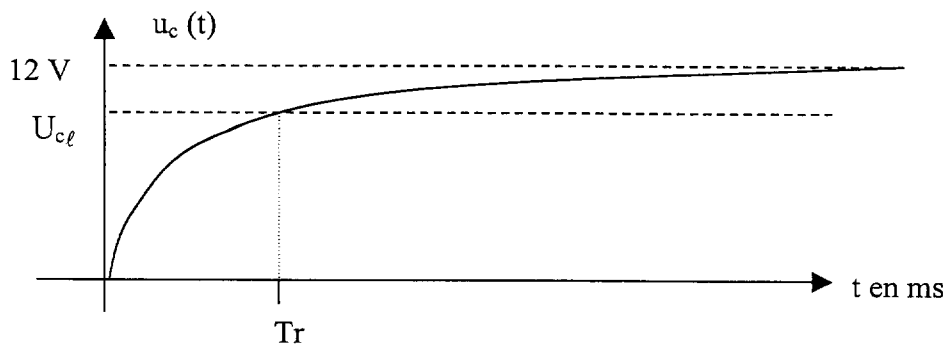


figure n°4

K est le modèle associé au fonctionnement du phototransistor  $T_2$  éclairé par la diode DEL.

En présence des mains, le phototransistor  $T_2$  ne reçoit pas d'éclairement et l'interrupteur K est ouvert, le condensateur C se charge alors (courbe ci-après) à travers la résistance  $R_1$ . Quand la tension  $v_r$  du relais qui commande le moteur est de 12 V, alors ce dernier se met en marche.



On donne les valeurs suivantes :

$$R_4 = 120 \text{ k}\Omega \quad ; \quad R_5 = 220 \text{ k}\Omega \quad ; \quad R_3 = 820 \text{ k}\Omega \quad ; \quad C = 10 \text{ }\mu\text{F}.$$

C-2-1. Exprimer la relation entre le courant  $i$  dans le condensateur et la tension  $u_c$  à ses bornes.

C-2-2. En déduire l'équation différentielle s'appliquant au dipôle résultant de l'association en série de la résistance  $R_4$  et du condensateur  $C$ .

C-2-3. Lorsque le condensateur est initialement déchargé, la solution de cette équation différentielle s'écrit :

$$u_c(t) = A.(1 - \exp(-t/\tau))$$

Calculer les constantes  $A$  et  $\tau$ .

C-2-4. Exprimer  $v_+$  en fonction de  $V_{cc}$ ,  $R_5$  et  $R_3$ . Calculer  $v_+$ .

C-2-5. Dans cette phase de fonctionnement, quelle est la valeur de  $v_s$  à la sortie du comparateur ?

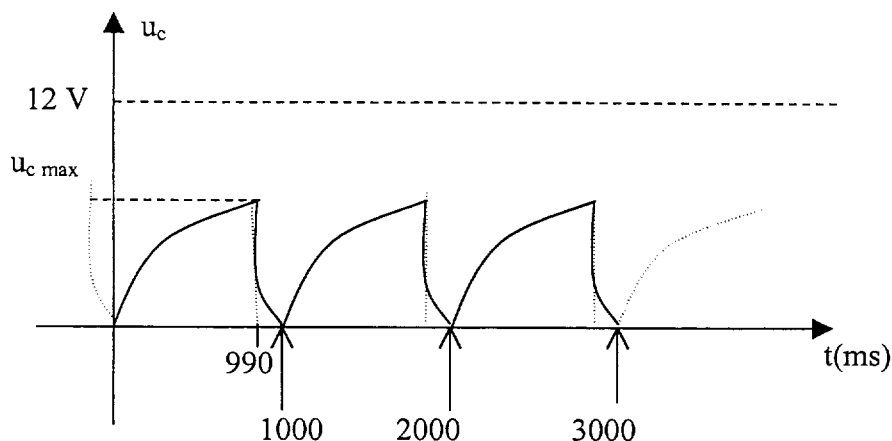
C-2-6. Exprimer  $u_d$  en fonction de  $v_+$  et  $u_c$ . En déduire l'instant  $T_r$  auquel le comparateur commute. Quelle est ensuite la tension  $v_s$  à la sortie du comparateur ?

C-2-7. Quelle est la tension  $v_r$  aux bornes du relais du moteur ? En déduire l'état de fonctionnement du moteur.

C-2-8. Quelle est l'évolution de la tension  $u_c$  si les mains sont présentes ?

### C -3 TRAITEMENT DE L'ABSENCE DES MAINS. (figure n°4)

En absence des mains, le phototransistor  $T_2$  reçoit des impulsions d'éclairement et l'interrupteur  $K$  se ferme périodiquement. A chaque fois, le condensateur  $C$  se recharge (courbe ci-dessous) presque instantanément à travers la résistance  $R_0$  de valeur très faible. Le condensateur est ainsi « court-circuité » à chaque impulsion d'éclairement reçue par le phototransistor  $T_2$ . Le moteur est à l'arrêt quand la tension  $v_r$  du relais qui le commande est nulle.



C-3-1. En considérant la courbe ci-dessus, déterminer graphiquement les durées  $T_c$  de charge et  $T_d$  de décharge du condensateur.

C-3-2. Pendant la charge uniquement, l'expression de la tension aux bornes du condensateur s'écrit :

$$u_c(t) = 12.(1 - \exp(-t/1,2))$$

On rappelle que  $u_c$  est en volt et  $t$  en seconde.

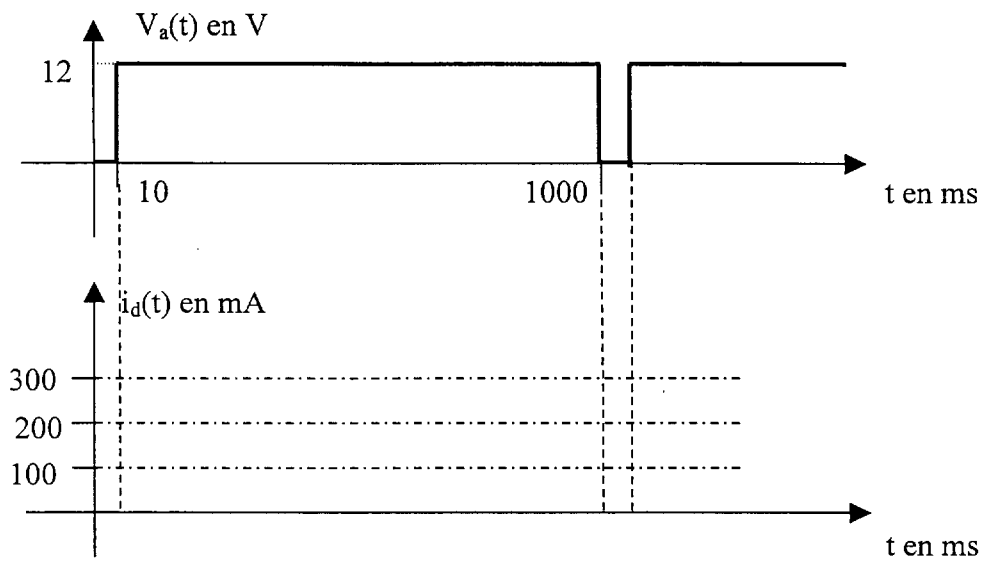
Déterminer la tension maximale  $u_{c \max}$  atteinte par la tension  $u_c(t)$  lors de la charge, soit  $u_{c \max} = u_c(t = T_c)$ , en utilisant la formule ci-dessus.

C-3-3. Calculer  $u_d = v_+ - u_{c \max}$ . En déduire la tension  $v_s$  à la sortie du comparateur.

C-3-4. Quelle est la tension  $v_r$  aux bornes du relais du moteur ? En déduire l'état de fonctionnement du moteur.

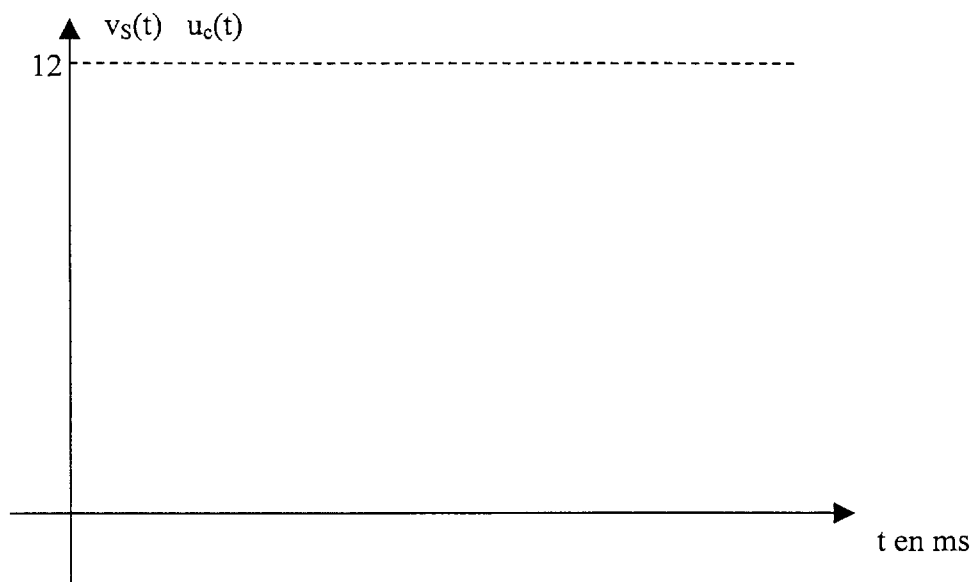


C.1.3



**Figure : a**

B.3



**Figure : b**

Copyright © 2026 FormaV. Tous droits réservés.

Ce document a été élaboré par FormaV® avec le plus grand soin afin d'accompagner chaque apprenant vers la réussite de ses examens. Son contenu (textes, graphiques, méthodologies, tableaux, exercices, concepts, mises en forme) constitue une œuvre protégée par le droit d'auteur.

Toute copie, partage, reproduction, diffusion ou mise à disposition, même partielle, gratuite ou payante, est strictement interdite sans accord préalable et écrit de FormaV®, conformément aux articles L.111-1 et suivants du Code de la propriété intellectuelle. Dans une logique anti-plagiat, FormaV® se réserve le droit de vérifier toute utilisation illicite, y compris sur les plateformes en ligne ou sites tiers.

En utilisant ce document, vous vous engagez à respecter ces règles et à préserver l'intégrité du travail fourni. La consultation de ce document est strictement personnelle.

Merci de respecter le travail accompli afin de permettre la création continue de ressources pédagogiques fiables et accessibles.

Copyright © 2026 FormaV. Tous droits réservés.

Ce document a été élaboré par FormaV® avec le plus grand soin afin d'accompagner chaque apprenant vers la réussite de ses examens. Son contenu (textes, graphiques, méthodologies, tableaux, exercices, concepts, mises en forme) constitue une œuvre protégée par le droit d'auteur.

Toute copie, partage, reproduction, diffusion ou mise à disposition, même partielle, gratuite ou payante, est strictement interdite sans accord préalable et écrit de FormaV®, conformément aux articles L.111-1 et suivants du Code de la propriété intellectuelle. Dans une logique anti-plagiat, FormaV® se réserve le droit de vérifier toute utilisation illicite, y compris sur les plateformes en ligne ou sites tiers.

En utilisant ce document, vous vous engagez à respecter ces règles et à préserver l'intégrité du travail fourni. La consultation de ce document est strictement personnelle.

Merci de respecter le travail accompli afin de permettre la création continue de ressources pédagogiques fiables et accessibles.